

**Проверочная работа
по ГЕОГРАФИИ**

6 КЛАСС

Образец

Инструкция по выполнению работы


На выполнение работы по географии даётся 60 минут. Работа включает в себя 10 заданий.

Ответы на задания запишите в поля ответов в тексте работы. В случае записи неверного ответа зачеркните его и запишите рядом новый.

При выполнении работы не разрешается пользоваться учебником, рабочими тетрадями, атласом и другим справочным материалом.

При необходимости можно пользоваться черновиком. Записи в черновике проверяться и оцениваться не будут. Для выполнения заданий с использованием карт Вам потребуются линейка и карандаш.

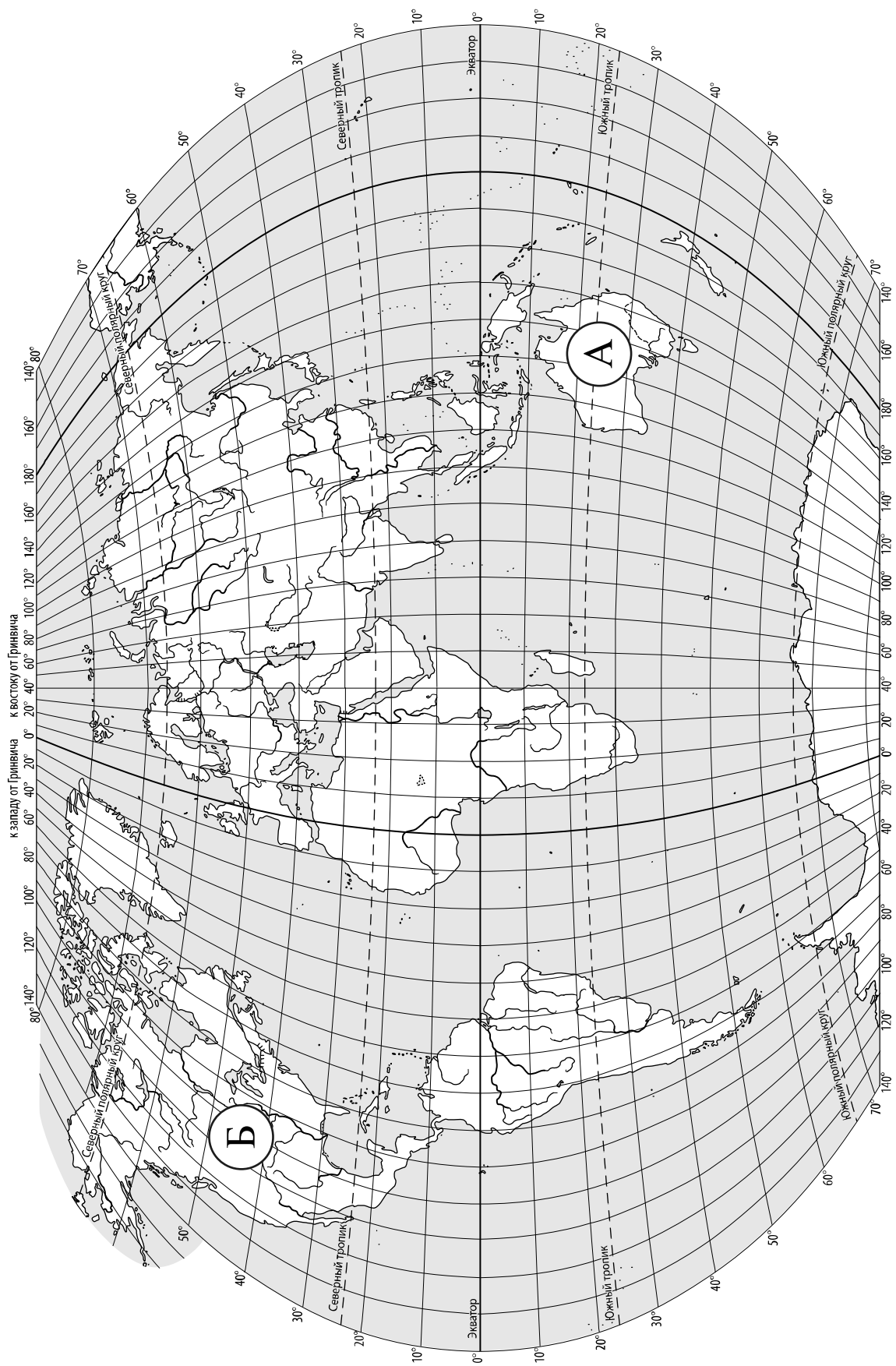
Советуем выполнять задания в том порядке, в котором они даны. В целях экономии времени пропускайте задание, которое не удаётся выполнить сразу, и переходите к следующему. Если после выполнения всей работы у Вас останется время, то Вы сможете вернуться к пропущенным заданиям.

Значком  отмечены задания, ответы на которые записываются на карте, приведённой на странице 2.

Желаем успеха!



**В образце представлено два примера задания 7.
В реальных вариантах проверочной работы на эту позицию предлагается только одно задание.**



Задание 1 выполняется с использованием карты мира, приведённой на странице 2.

1

Рассмотрите карту мира. На ней буквами А и Б отмечены два материка.

1.1. Запишите названия материков в соответствующее поле.

Название материка (А) :


Название материка (Б) :



1.2. С каким из названных Вами материков связаны открытия путешественников и исследователей, изображённых на портретах? Укажите название материка.



Абель Тасман



Н.Н. Миклухо-Маклай

Ответ. _____



Подпишите на карте океаны, омывающие берега указанного выше материка.



Задание 2 выполняется с использованием карты мира, приведённой на странице 2.

2

2.1. Поставьте точки на карте по приведённым ниже координатам. Обозначьте эти точки соответственно цифрами 1 и 2.



Точка 1 – 19° ю. ш. 45° в. д.



Точка 2 – 43° с. ш. 45° в. д.

В каком направлении от точки 1 расположена точка 2?



Ответ. _____

2.2. Точка 1 расположена на территории крупного географического объекта. Прочитайте текст, рассмотрите космический снимок и укажите название этого географического объекта.

Это четвёртый по величине остров мира. Он расположен к востоку от Африки и отделён от неё широким проливом. В центральной части острова расположено высокогорное плато, круто обрывающееся в сторону Индийского океана. Остров уникален по составу растительного и животного мира. Здесь обитают животные, которых нет больше нигде на планете, например лемуры и некоторые виды хамелеонов.

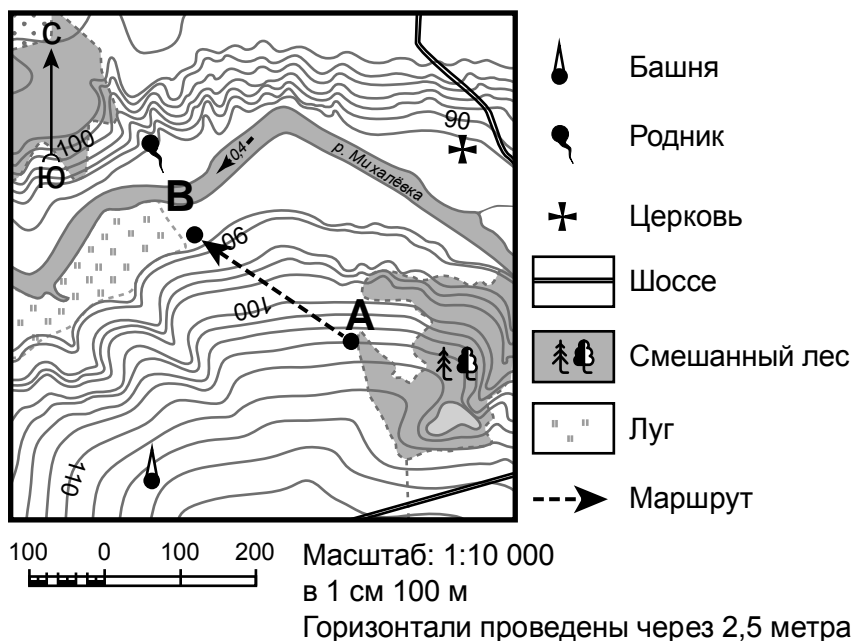


Ответ. _____



Задание 3 выполняется с использованием приведённого ниже фрагмента топографической карты.

3



3.1. На каком берегу реки Михалёвки находится церковь?

Ответ. _____

В каком направлении от церкви расположен родник?

Ответ. _____

3.2. Какова протяжённость проложенного на карте маршрута А–В? Для выполнения задания используйте линейку. Расстояние измеряйте по центрам точек.

Ответ. _____

3.3. Какой из изображённых на фотографиях объект может быть сооружён на участке, по которому проходит маршрут А–В? Обоснуйте свой ответ.



А – футбольное поле



Б – санный спуск

Ответ. Объект: _____

4

4.1. Разница во времени между городами Санкт-Петербургом и Якутском составляет **+6 часов**. На рисунках представлены показания часов в Санкт-Петербурге и Якутске в тот момент, когда в Санкт-Петербурге **5 часов вечера**. Запишите под каждым рисунком, как отображается то же самое время на электронных часах в этих городах.

САНКТ-ПЕТЕРБУРГ



ЯКУТСК



4.2. Настя живёт в городе Санкт-Петербург. Что она делает в указанное Вами время? Используйте для ответа приведённый режим дня школьника.

Ответ. _____

4.3. Что в это же время делает её сверстница Катя, которая живёт в Якутске, если она соблюдает тот же режим дня, что и Настя?

Ответ. _____

Обоснуйте свой ответ и укажите, чем обусловлена разница во времени в разных частях Земли.

Ответ. _____

РЕЖИМ ДНЯ ШКОЛЬНИКА

7.00	<i>Подъём</i>
7.05 – 7.20	<i>Утренняя зарядка</i>
7.20 – 7.30	<i>Гигиенические процедуры</i>
7.30 – 8.00	<i>Завтрак</i>
8.00 – 8.15	<i>Дорога в школу</i>
8.30 – 13.10	<i>Занятия в школе</i>
13.10 – 13.30	<i>Дорога домой</i>
13.45 – 14.15	<i>Обед</i>
14.15 – 16.15	<i>Занятия в кружках/секциях</i>
16.30 – 16.45	<i>Полдник</i>
16.45 – 18.15	<i>Выполнение домашних заданий</i>
18.15 – 19.15	<i>Прогулка на свежем воздухе</i>
19.30 – 20.00	<i>Ужин</i>
20.00 – 21.30	<i>Свободное время (чтение книг, просмотр телепередач, настольные игры)</i>
21.30 – 22.00	<i>Гигиенические процедуры и подготовка ко сну</i>
22.00 – 7.00	<i>Ночной сон</i>

5. 5.1. Установите соответствие между географическими особенностями и природными зонами, для которых они характерны: для этого к каждой позиции первого столбца подберите соответствующую позицию из второго столбца.

ГЕОГРАФИЧЕСКИЕ ОСОБЕННОСТИ

ПРИРОДНЫЕ ЗОНЫ

- | | |
|---|--|
| <p>А) устойчивый снежный покров зимой
 Б) преимущественно травянистая растительность
 В) занимает обширные равнины Африки
 Г) произрастание хвойных деревьев
 Д) занимает территорию в пределах умеренного пояса Северного полушария
 Е) местообитание зебр, жирафов, антилоп</p> | <p>1) саванны и редколесья
 2) тайга</p> |
|---|--|

Запишите в таблицу выбранные цифры под соответствующими буквами.

Ответ.

А	Б	В	Г	Д	Е

5.2. Определите, в какой из указанных природных зон могла быть сделана каждая фотография. Подпишите названия природных зон.



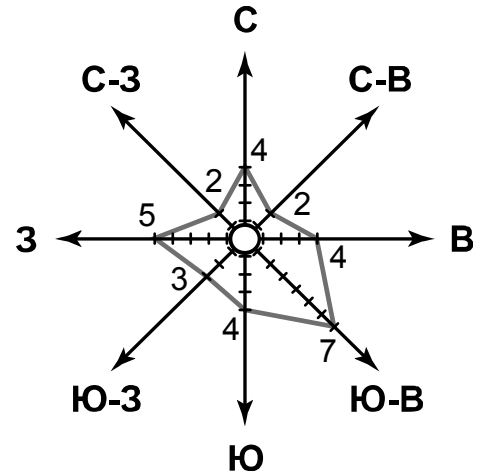
А – _____



Б – _____

6

На метеорологической станции города N в январе были проведены наблюдения за направлением ветра. По результатам наблюдений метеорологи построили розу ветров. Рассмотрите розу ветров и ответьте на вопросы.



6.1. Какой ветер чаще всего дул в январе?

Ответ. _____

В каком направлении дует этот ветер?

Ответ. _____

6.2. На каком рисунке знаками отображена погода в тот день, когда температура воздуха опустилась ниже 10 градусов мороза? Укажите букву, которой обозначен этот рисунок. Составьте описание погоды в этот день.

- | | | | | | |
|---|---|----|---|--------|-----|
| А | ● | ✱ | ↖ | -16 °С | 74% |
| Б | ○ | | ↗ | -10 °С | 56% |
| В | ◐ | •• | ↘ | +2 °С | 80% |

Ответ. Рисунок: _____

7 Прочитайте текст и выполните задание.

(1)Литосфера – твёрдый верхний слой Земли. (2)В её составе земная кора и верхняя часть мантии. (3)Земная кора под океанами и континентами значительно различается: на континентах её толщина составляет 40–80 км, под океанами — 5–10 км. (4)На континентах кора состоит из трёх слоёв: слоя осадочных пород, «гранитного» слоя и «базальтового» слоя. (5)Под океанами кора двухслойная: осадочные породы залегают на «базальтовом» слое, «гранитный» слой отсутствует. (6)Литосфера расположена на пластичном слое мантии.

По каким предложениям можно сделать вывод о строении литосферы?
Запишите номера предложений.

Ответ. _____

ИЛИ

7 Прочитайте предложения и выполните задание.

- 1) Используя богатства природы, человек активно внедряется во все оболочки Земли.
- 2) При создании водохранилищ и распашке земель изменяется водный баланс и почвенный покров, что нарушает видовой состав флоры и фауны на огромных территориях.
- 3) В Мировом океане среду обитания живых организмов особенно сильно нарушает загрязнение воды.
- 4) Современные технологии позволяют человеку осваивать новые территории, добывать богатства земных недр, прогнозировать природные процессы и даже управлять ими.
- 5) Ежегодно в атмосферу Земли выбрасывается огромное количество вредных веществ.
- 6) Вырубка лесов, охота, сбор редких видов растений приводят к сокращению и даже уничтожению растительного и животного мира нашей планеты.

По каким предложениям можно сделать вывод о негативном влиянии человека на биосферу?
Запишите номера предложений.

Ответ. _____

8

8.1. Используя приведённую ниже таблицу, выполните задания.

Численность и состав населения

№	Страна	Численность населения, млн человек	Состав населения, %	
			городское	сельское
1	Австралия	25	88	12
2	Греция	11	80	20
3	Египет	95	43	57
4	Франция	65	80	20

Расположите страны в порядке **уменьшения** численности населения, начиная со страны с самой большой численностью. Запишите в ответе последовательность порядковых номеров этих стран.

Ответ. _____

В какой стране преобладает сельское население? Запишите в ответе название страны.

Ответ. _____

В каких странах доля городского населения одинакова? Запишите в ответе названия стран.

Ответ. _____

8.2. На фотографиях изображены крупнейшие города и культурно-исторические достопримечательности стран, указанных в таблице. Запишите под каждой фотографией название соответствующей страны.



А – _____



Б – _____



В – _____



Г – _____

9

Рассмотрите фотографию с изображением опасного явления природы. Запишите его название.



Природное явление – _____

Составьте краткое описание этого природного явления (объёмом до пяти предложений). Поясните, чем опасно это явление для людей.

Ответ. _____

10

10.1. Запишите название региона (республики / области / края / автономного округа / города федерального значения), в котором Вы живёте. Укажите название главного города Вашего региона (если регион, в котором Вы живёте, не является городом федерального значения).

Ответ. Регион – _____

Главный город – _____

Как называется населённый пункт / округ / муниципальный район города, в котором Вы живёте или расположена Ваша школа?

Ответ. _____

10.2. Какие крупные объекты гидросферы есть на территории Вашего региона? Составьте краткое географическое описание одного из них.

Ответ. _____

Система оценивания проверочной работы

Полный правильный ответ на каждое из заданий 1.1, 2.2, 3.2, 4.1, 4.2 и 5.2 оценивается 1 баллом. Если в ответе допущена хотя бы одна ошибка (один из элементов ответа записан неправильно или не записан), выставляется 0 баллов.

Полный правильный ответ на каждое из заданий 5.1, 7 и 8.2 оценивается 2 баллами. Если в ответе допущена одна ошибка или перепутаны местами две цифры в ответах на задания 5.1 и 8.2, выставляется 1 балл; если допущено две или более ошибки – 0 баллов.


Номер задания	Правильный ответ	
1.1	А – Австралия, Б – Северная Америка	
2.2	остров Мадагаскар	
3.2	250 метров	
4.1	17.00; 23.00	
4.2	Настя выполняет домашние задания	
5.1	211221	
5.2	А) тайга Б) саванны и редколесья	
7	245 (в любой последовательности)	236 (в любой последовательности)
8.2	А) Франция Б) Египет В) Греция Г) Австралия	

1

1.2. С каким из названных Вами материков связаны открытия путешественников и исследователей, изображённых на портретах? Укажите название материка.



А. Тасман



Н.Н. Миклухо-Маклай

Подпишите на карте океаны, омывающие берега указанного выше материка.

Содержание верного ответа и указания по оцениванию	Баллы
Правильный ответ должен содержать следующие <u>элементы</u> : 1) <u>название материка</u> : Австралия; 2) <u>подписи океанов на карте</u> : Индийский, Тихий	
Правильно указано название материка, подписаны два океана	2
Правильно указано название материка, подписан только один океан	1
Правильно указано только название материка, ни одно название океана не подписано / не подписано правильно. ИЛИ Название материка не указано / указано неправильно независимо от наличия/отсутствия подписи океанов. ИЛИ Ответ неправильный	0
	<i>Максимальный балл</i> 2

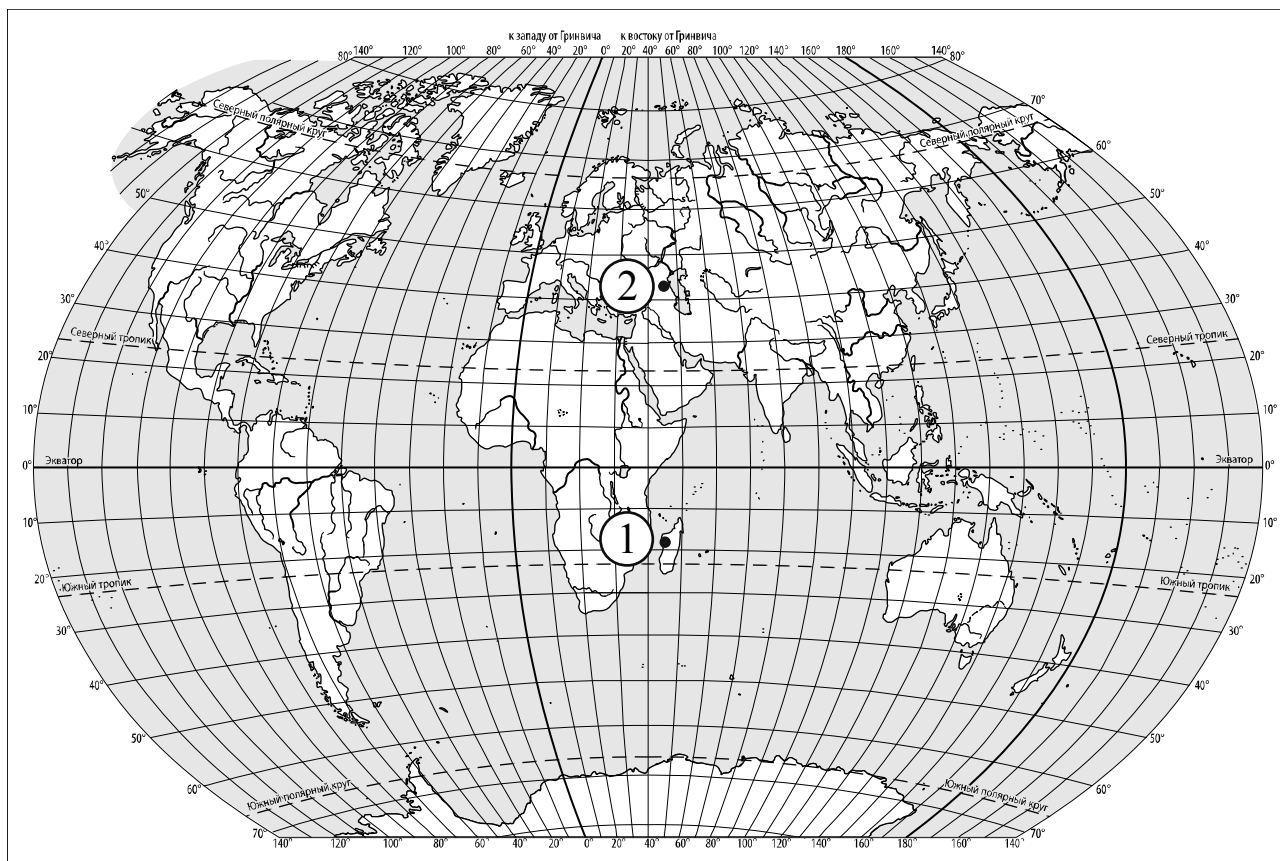
2

2.1. Поставьте точки на карте по приведённым ниже координатам. Обозначьте эти точки соответственно цифрами 1 и 2.

Точка 1 – 19° ю. ш. 45° в. д.

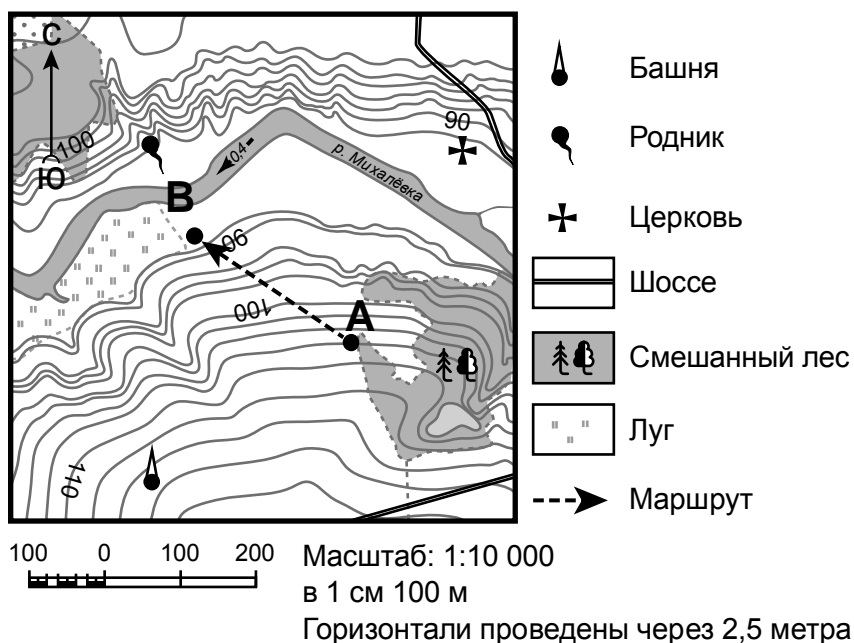
Точка 2 – 43° с. ш. 45° в. д.

В каком направлении от точки 1 расположена точка 2?



Содержание верного ответа, критерии и указания по оцениванию		Баллы
К1	Отметка двух точек на карте	1
	Две точки на карте отмечены правильно	1
	На карте правильно отмечена только одна точка / точки не отмечены / отмечены неправильно	0
<i>Если по критерию К1 выставлен 0 баллов, то по критерию К2 выставляется 0 баллов</i>		
К2	Указание направления	1
	Направление указано правильно: в северном направлении / на север	1
	Направление не указано / указано неправильно	0
<i>Максимальный балл</i>		2

3



3.1. На каком берегу реки Михалёвки находится церковь?
В каком направлении от церкви расположен родник?

Содержание верного ответа и указания по оцениванию	Баллы
Правильный ответ должен содержать <u>ответы на два вопроса</u> : 1) на правом берегу; 2) в западном направлении / в направлении на запад	
Правильно даны ответы на два вопроса	2
Правильно дан ответ только на один любой вопрос	1
Ответы на вопросы не даны / даны неправильно	0
<i>Максимальный балл</i>	2

3.3. Какой из изображённых на фотографиях объект может быть сооружён на участке, по которому проходит маршрут А–В? Обоснуйте свой ответ.



А – футбольное поле



Б – санный спуск

Содержание верного ответа и указания по оцениванию	Баллы
<p>Правильный ответ должен содержать следующие <u>элементы</u>:</p> <p>1) <u>указание объекта</u>: Б – санный спуск;</p> <p>2) <u>обоснование</u>, например: маршрут проложен по склону с достаточным для санного спуска уклоном, на склоне нет никаких объектов, которые могут помешать спуску, а для сооружения футбольного поля необходим ровный участок.</p> <p><i>Обоснование может быть приведено в иной, близкой по смыслу формулировке</i></p>	
Правильно указан объект, дано обоснование	2
Правильно указан только объект	1
Объект указан неправильно независимо от наличия/отсутствия обоснования. ИЛИ Ответ неправильный	0
<i>Максимальный балл</i>	2

4

4.3. Что в это же время делает её сверстница Катя, которая живёт в Якутске, если она соблюдает тот же режим дня, что и Настя?

Обоснуйте свой ответ и укажите, чем обусловлена разница во времени в разных частях Земли.

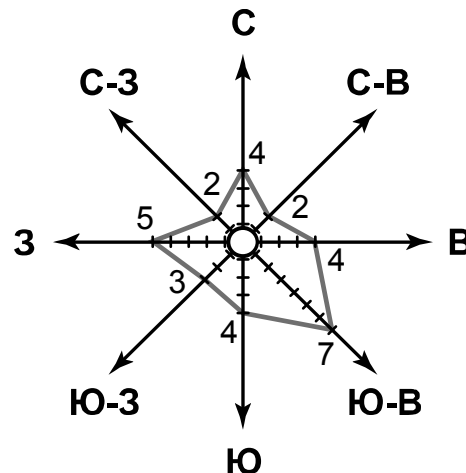
РЕЖИМ ДНЯ ШКОЛЬНИКА

7.00	<i>Подъём</i>
7.05 – 7.20	<i>Утренняя зарядка</i>
7.20 – 7.30	<i>Гигиенические процедуры</i>
7.30 – 8.00	<i>Завтрак</i>
8.00 – 8.15	<i>Дорога в школу</i>
8.30 – 13.10	<i>Занятия в школе</i>
13.10 – 13.30	<i>Дорога домой</i>
13.45 – 14.15	<i>Обед</i>
14.15 – 16.15	<i>Занятия в кружках/секциях</i>
16.30 – 16.45	<i>Полдник</i>
16.45 – 18.15	<i>Выполнение домашних заданий</i>
18.15 – 19.15	<i>Прогулка на свежем воздухе</i>
19.30 – 20.00	<i>Ужин</i>
20.00 – 21.30	<i>Свободное время (чтение книг, просмотр телепередач, настольные игры)</i>
21.30 – 22.00	<i>Гигиенические процедуры и подготовка ко сну</i>

Содержание верного ответа и указания по оцениванию	Баллы
<p>Правильный ответ должен содержать следующие <u>элементы</u>:</p> <p>1) <u>ответ на вопрос</u>: Катя спит;</p> <p>2) <u>обоснование</u>, например: когда в Санкт-Петербурге 17 часов, в Якутске 23 часа, поэтому когда Настя выполняет домашние задания, Катя уже спит.</p> <p>3) <u>указание того, чем обусловлена разница во времени</u>, например: такая разница во времени обусловлена вращением Земли вокруг своей оси.</p> <p><i>Обоснование и/или указание может быть приведено в иной, близкой по смыслу формулировке</i></p>	
Правильно дан ответ на вопрос, представлены обоснование и указание	3
Правильно даны ответ на вопрос и обоснование, указание не дано / дано неправильно. ИЛИ Правильно даны ответ на вопрос и указание, обоснование не дано / дано неправильно	2
Правильно дан только ответ на вопрос	1
Ответ на вопрос не дан / дан неправильно независимо от наличия/отсутствия других элементов ответа. ИЛИ Ответ неправильный	0
<i>Максимальный балл</i>	3

6

На метеорологической станции города N в январе были проведены наблюдения за направлением ветра. По результатам наблюдений метеорологи построили розу ветров. Рассмотрите розу ветров и ответьте на вопросы.



6.1. Какой ветер чаще всего дул в январе?
В каком направлении дует этот ветер?

Содержание верного ответа и указания по оцениванию	Баллы
Правильный ответ должен содержать <u>ответы на два вопроса</u> : 1) юго-восточный ветер; 2) в северо-западном направлении / в направлении на северо-запад	
Правильно даны ответы на два вопроса	2
Правильно дан ответ только на один любой вопрос	1
Ответы на вопросы не даны / даны неправильно	0
<i>Максимальный балл</i>	2

6.2. На каком рисунке знаками отображена погода в тот день, когда температура воздуха опустилась ниже 10 градусов мороза? Укажите букву, которой обозначен этот рисунок. Составьте описание погоды в этот день.

А	● * ↙	-16 °C	74%
Б	○ ↗	-10 °C	56%
В	◐ ●● ↘	+2 °C	80%

Содержание верного ответа, критерии и указания по оцениванию		Баллы
К1	Указание рисунка	1
	Правильно указан рисунок: А	1
	Рисунок не указан / указан неправильно	0
	<i>Если по критерию К1 выставлен 0 баллов, то по критерию К2 выставляется 0 баллов</i>	

К2	Описание погоды	2
	Правильно представлено описание погоды с учётом всех показателей, отображённых на рисунке знаками, например: в этот день была пасмурная погода, шёл снег, дул юго-восточный ветер, температура воздуха была минус 16 градусов, влажность воздуха – 74%. Описание может быть приведено в иной, близкой по смыслу формулировке	2
	При описании погоды с учётом показателей, отображённых на рисунке знаками, допущена одна ошибка / не учтён любой один из показателей	1
	В описании погоды допущено две или более ошибки. ИЛИ В описании погоды не учтены два или более показателя. ИЛИ Описание погоды не представлено	0
<i>Максимальный балл</i>		3

8

8.1. Используя приведённую ниже таблицу, выполните задания.

Численность и состав населения

№	Страна	Численность населения, млн человек	Состав населения, %	
			городское	сельское
1	Австралия	25	88	12
2	Греция	11	80	20
3	Египет	95	43	57
4	Франция	65	80	20

Расположите страны в порядке **уменьшения** численности населения, начиная со страны с самой большой численностью. Запишите в ответе последовательность порядковых номеров этих стран.

В какой стране преобладает сельское население? Запишите в ответе название страны.

В каких странах доля городского населения одинакова? Запишите в ответе названия стран.

Содержание верного ответа и указания по оцениванию	Баллы
Правильный ответ должен содержать следующие <u>элементы</u> : 1) <u>последовательность номеров стран</u> : 3412; 2) <u>ответ на первый вопрос</u> : в Египте; 3) <u>ответ на второй вопрос</u> : в Греции и во Франции	
Правильно указана последовательность номеров стран и даны ответы на два вопроса	2
Правильно указана последовательность номеров стран и дан ответ на любой один вопрос. ИЛИ Правильно даны только ответы на два вопроса	1
Правильно указана только последовательность номеров стран. ИЛИ Правильно дан ответ только на один любой вопрос. ИЛИ Ответ неправильный	0
<i>Максимальный балл</i>	2

9

Рассмотрите фотографию с изображением опасного явления природы. Запишите его название.

Природное явление – _____

Составьте краткое описание этого природного явления (объёмом до пяти предложений). Поясните, чем опасно это явление для людей.



Содержание верного ответа и указания к оцениванию		Баллы
К1	Указание опасного явления природы	1
	Правильно определено опасное явление природы: смерч/торнадо <i>При оценивании как правильный ответ засчитывается любое допустимое название данного явления</i>	1
	Опасное явление природы не определено / определено неправильно	0
	<i>Если по критерию К1 выставлен 0 баллов, то по всем остальным позициям оценивания выставляется 0 баллов</i>	
К2	Описание этого природного явления <i>При оценивании в качестве правильного может быть принято описание природного явления в любом объёме</i>	1
	Описание содержит основные сведения о природном явлении. Фактических ошибок нет	1
	В описании допущены фактические ошибки. ИЛИ Приведены рассуждения общего характера, не содержащие сведений о природном явлении. ИЛИ Описание не представлено	0
К3	Пояснение, чем опасно это явление для людей	1
	Правильно пояснено, чем опасно это явление для людей	1
	Пояснение о том, чем опасно это явление для людей, отсутствует. ИЛИ Ответ неправильный	0
<i>Максимальный балл</i>		3

10

10.1. Запишите название региона (республики / области / края / автономного округа / города федерального значения), в котором Вы живёте. Укажите название главного города Вашего региона (если регион, в котором Вы живёте, не является городом федерального значения).

Как называется населённый пункт / округ / муниципальный район города, в котором Вы живёте или расположена Ваша школа?

Указания к оцениванию	Баллы
Правильно указаны название региона и его главный город, населённый пункт / округ / муниципальный район города. ИЛИ Правильно указаны название региона, населённый пункт / округ / муниципальный район города	1
Правильно указаны название региона и его главный город, населённый пункт / округ / муниципальный район города не указаны / указаны неправильно. ИЛИ Правильно указаны главный город региона, населённый пункт / округ / муниципальный район города, название региона не указано / указано неправильно. ИЛИ Правильно указан населённый пункт / округ / муниципальный район города, название региона и его главный город не указаны / указаны неправильно. ИЛИ Ответ неправильный	0
<i>Максимальный балл</i>	<i>1</i>

10.2. Какие крупные объекты гидросферы есть на территории Вашего региона? Составьте краткое географическое описание одного из них.

Критерии и указания к оцениванию		Баллы
K1	Указание объектов гидросферы на территории региона	1
	Правильно указан(-ы) объект(-ы) гидросферы на территории региона. <i>При оценивании засчитывается указание любого количества объектов (одного и более)</i>	1
	Объект(-ы) гидросферы на территории региона не указан(-ы) / указан(-ы) неправильно	0
	<i>Если по критерию K1 выставлен 0 баллов, то по критерию K2 выставляется 0 баллов</i>	
K2	Описание одного из объектов гидросферы	2
	Описание содержит основные географические сведения об объекте. Фактических ошибок нет	2
	Описание содержит основные географические сведения об объекте. Допущено не более двух фактических ошибок	1
	Приведены сведения, не соответствующие требованию задания	0
	<i>Максимальный балл</i>	3

Система оценивания выполнения всей работы

Максимальный балл за выполнение работы – 37.

Рекомендации по переводу первичных баллов в отметки по пятибалльной шкале

Отметка по пятибалльной шкале	«2»	«3»	«4»	«5»
Первичные баллы	0–9	10–21	22–30	31–37